

EXAMEN FINAL DE METODOS NUMERICOS (MB536)

- SOLO SE PERMITE EL USO DE UNA HOJA DE FORMULARIO Y CALCULADORA
- ESCRIBA CLARAMENTE SUS PROCEDIMIENTOS
- PROHIBIDO EL USO DE CELULARES U OTROS EQUIPOS DE COMUNICACION ELECTRONICA
- DURACION: 110 MINUTOS

Problema 1

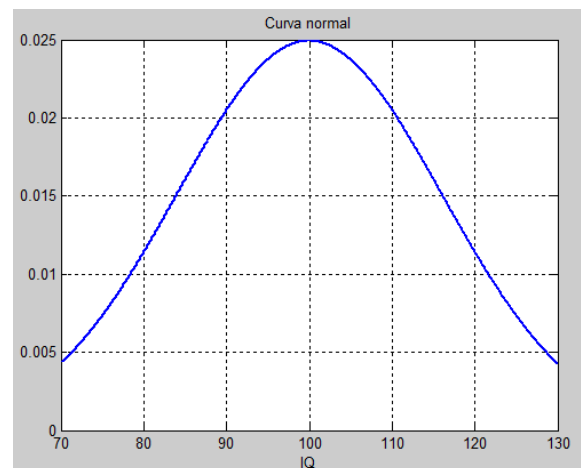
La tensión alterna medida en los bornes de un generador eléctrico, registra los siguientes valores:

T (ms)	1	1.5	3.5	5
V(voltios)	10	12	-4	-11

- (2.5 pts) Determine el polinomio de interpolación de Newton de segundo grado y estime la tensión a los 4ms.
- (2.5 pts) Determine el polinomio de interpolación de Lagrange de segundo grado y estime la tensión a los 2ms.

Problema 2

Los psicólogos emplean distintas pruebas estandarizadas para medir la inteligencia. El método más utilizado para describir el resultado de estas pruebas es el llamado cociente de inteligencia IQ. Un IQ es un número positivo que en teoría, indica cómo se compara la edad mental de una persona con su edad cronológica. El IQ medio está colocado arbitrariamente en 100, de manera que la mitad de la población tiene un IQ menor que 100 y la otra mitad un IQ mayor que 100. Los IQ están distribuidos en una **curva normal**. La proporción de personas que tienen un IQ entre A y B está dada por el área bajo la curva desde A hasta B; es decir, está dada por la integral:

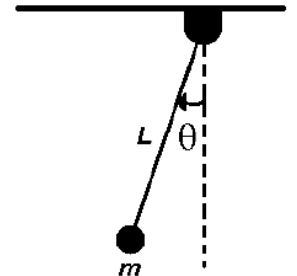


$$\frac{1}{16\sqrt{2\pi}} \int_A^B e^{-(1/2)[(x-100)/16]^2} dx$$

- (2 pts) Escriba comandos de Matlab para obtener la grafica de la curva normal presentada en la figura. Tenga en cuenta que el color de la línea es azul y su ancho es 2.
- (3 pts) Encuentre la proporción de todas las personas que tienen IQ entre 120 y 126 utilizando el método de Simpson con n = 3 particiones.

Problema 3

Considere la barra delgada de longitud L moviéndose en el plano X-Y, como se muestra en la figura. La barra se fija de un extremo, con una masa en el extremo. Considere que $g = 9.81 \text{ m/s}^2$ y $L = 0.5\text{m}$



- a) (1.0 ptos) Demuestre que el sistema físico se resuelve usando la EDO

$$\frac{d^2\theta}{dt^2} + \frac{g}{L} \sin \theta = 0$$

- b) (2.5 ptos) Si $\theta(0) = \pi/3$ y $\theta'(0) = 0.5 \text{ rad/s}$, aproximar $\theta(0.5)$ y $\theta'(0.5)$ utilizando el método de Euler. Considere $h=0.25$.
- c) (1.5 ptos) Escriba una función en MATLAB que permita resolver b)

Problema 4

- a) (3.5 ptos) Resolver: $y'' = -0.1 y' - x$, $y(0)=1$, $y(1)=1$, usar diferencias finitas para $h=0.25$.
- b) (1.5 ptos) Escriba un programa en MATLAB que permita resolver a) y graficar la solución exacta versus la solución numérica.

Los Profesores

Poner mucha atención en su solución esta debe estar de acuerdo a su pregunta

Solucionario

Problema 1

a)

Preparando la tabla de valores

i	xi	yi	f[xi,xi+1]	f[xi,xi+1,xi+2]
0	1,5	12	-8,0000	0,9524
1	3,5	-4	-4,6667	
2	5	-11		

$$P(x)=12-8*(x-1.5)+0.9524*(x-1.5)*(x-3.5)$$

$$P(4)=-6.8095$$

b)

Preparando la tabla

i	xi	yi	dLi	yi/dLi
0	1	10	1,25	8
1	1,5	12	-1	-12
2	3,5	-4	5	-0,8

$$P(x)=8*(x-1.5)*(x-3.5)-12*(x-1)*(x-3.5)-0.8*(x-1)*(x-1.5)$$

$$P(2)=11.6$$

Problema 2

a)

```
>> x=[70:0.01:130];
>> y=(1/(16*sqrt(2*pi)))*exp(-1/2*((x-100)/16).^2);
>> p = plot(x,y);
>> set(p,'Color','blue','LineWidth',2)
>> title('Curva normal')
>> grid on
>> title('Curva normal')
>> xlabel('IQ')
```

b) Del enunciado se tiene que la proporción solicitada viene dada por:

$$\frac{1}{16\sqrt{2\pi}} \int_{120}^{126} f(x) dx, \text{ donde } f(x) = e^{-(1/2)[(x-100)/16]^2}$$

Aplicando Simpson con $n = 3$ se tiene $h = \frac{126-120}{3} = 2$. Luego los extremos de los sub intervalos son 120, 122, 124, 126.

$$x_0: f(120) = e^{-(0.5)[(120-100)/16]^2} = e^{-0.5(2^0/16)^2} = e^{-0.5(1.25)^2} = e^{-0.5*1.5625} = 0.4578334$$

Reemplazando con Simpson 3/8, se tiene

$$\int_{120}^{126} f(x)dx = \frac{3}{8}h[0.4578334 + 3(0.3885581) + 3(0.32465247) + 0.2670518]$$

$$\int_{120}^{126} f(x)dx = \frac{3}{8}(2)[2.8645169] \approx 2.1483877$$

Ahora multiplicando esta aproximación por $\frac{1}{16\sqrt{2\pi}}$ que es la constante que multiplica a la integral, se obtiene $0.05356766 \approx 0.05357$.

Respuesta: Entonces se concluye que aproximadamente $0.05357 \cdot 100 \cong 5.36\%$ de la población tiene un IQ entre 120 y 126.

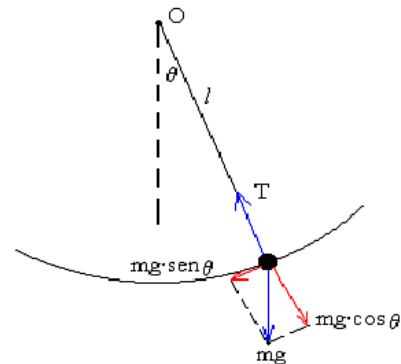
Problema 3

(a)

$$\sum \vec{F}_x = ma_x$$

$$-mg \operatorname{sen} \theta = ma;$$

$$-mg \operatorname{sen} \theta = m \frac{d^2 S}{dt^2}$$



donde S es la longitud del arco de circunferencia que describe la partícula y si expresamos el ángulo θ en radianes podemos escribir:

$$S = L\theta$$

Entonces:

$$-g \operatorname{sen} \theta = \frac{d(L\theta)}{dt^2}$$

Acomodando la expresión anterior y dividiendo por l nos queda:

$$\frac{d^2 \theta}{dt^2} + \frac{g}{L} \operatorname{sen} \theta = 0$$

(b) Definiendo

$$u_1 = \theta$$

$$u_2 = \theta'$$

$$u_1' = u_2$$

$$u_2' = -\frac{g}{L} \sin u_1$$

Método de Euler:

$$\begin{pmatrix} u_{1,i+1} \\ u_{2,i+1} \end{pmatrix} = \begin{pmatrix} u_{1,i} \\ u_{2,i} \end{pmatrix} + 0.25 \begin{pmatrix} u_{2,i} \\ -\frac{g}{L} \sin u_{1,i} \end{pmatrix}$$

ti	u1,i	u2,i
0	1.0472	0.5000
0.2500	1.1722	0.2876
0.5000	1.2441	0.0616

(c)

`function z=euler(f,a,b,y,h)`

`z=[a y'];`

`t=[a:h:b];`

`n=length(t);`

`for i=1:n-1`

`y=y+h*feval(f,t(i),y);`

`z=[z;t(i+1) y'];`

`end`

`function y=fu3(t,u)`

`u1=u(1);`

`u2=u(2);`

`y=[u2;(-9.81/10)*sin(u1)]`

`>> z=euler('fu3',0,1,[pi/3; 0.5],0.25)`

Problema 4

x_0	x_1	x_2	x_3	x_4
0	0.25	0.5	0.75	1
y_0	y_1	y_2	y_3	y_4
1	??	??	??	1

Se usarán las siguientes fórmulas de diferenciación numérica:

$$y'_i = \frac{y_{i+1} - y_{i-1}}{2h}$$

$$y''_i = \frac{y_{i+1} - 2y_i + y_{i-1}}{h^2}$$

Sea la ecuación diferencial para cada nodo "i":

$$y''_i + 0.1y'_i + x_i = 0$$

Para $i = 1:3$

$$\frac{y_{i+1} - 2y_i + y_{i-1}}{h^2} + 0.1 \frac{y_{i+1} - y_{i-1}}{2h} + x_i = 0$$

Reemplazando para cada nodo:

$$\frac{y_2 - 2y_1 + y_0}{h^2} + 0.1 \frac{y_2 - y_0}{2h} + x_1 = 0$$

$$\frac{y_3 - 2y_2 + y_1}{h^2} + 0.1 \frac{y_3 - y_1}{2h} + x_2 = 0$$

$$\frac{y_4 - 2y_3 + y_2}{h^2} + 0.1 \frac{y_4 - y_2}{2h} + x_3 = 0$$

Reemplazando y resolviendo tenemos:

$$Y_1 = 1.0395$$

$$y_2 = 1.0627$$

$$y_3 = 1.0544$$

`% ef_20112.m`

`y0=1, y4=1, x1=0.25, x2=0.5, x3=0.75, h=0.25`

`A=[-2/h^2 1/h^2+0.1/(2*h) 0;`

`1/h^2-0.1/(2*h) -2/h^2 1/h^2+0.1/(2*h)`

`0 1/h^2-0.1/(2*h) -2/h^2]`

`B=[-x1-y0/h^2+0.1*y0/(2*h); -x2; -x3-y4/h^2-0.1*y4/(2*h)]`

`y=A\B`

`y=[y0 Y' y4]`

`X=0:0.25:1`

`Y=dsolve('D2y+0.1*Dy+x=0','y(0)=0','y(1)=1','x')`

`Ye=subs(Y,X)`

`plot(X,y,X,Ye)`

`legend('Solucion aproximada','Solucion Exacta')`